



**EVALUAREA NAȚIONALĂ
LA FINALUL CLASEI a II-a
2025**

Test

MATEMATICĂ ȘI EXPLORAREA MEDIULUI

Județul / sectorul

Localitatea

Unitatea de învățământ

Numele și prenumele elevei / elevului

.....


Clasa a II-a

MEDII DE VIAȚĂ

Ziua Mondială a Mediului este sărbătorită pe data de 5 Iunie, iar elevii clasei a II-a vor să organizeze o expoziție cu desene realizate de ei.

Ana, David, Miruna și Tudor s-au oferit să așeze desenele în patru grupe, reprezentând medii de viață diferite.

În tabelul de mai jos sunt prezentate numerele desenelor alese pentru fiecare mediu de viață.



1. Ana a comparat numărul desenelor alese pentru grupa **Pădurea** cu cele alese pentru **Polul Sud**. **Compară-le și tu!** (5p.)

Scrive, în caseta de mai jos, unul din semnele $<$, $=$, $>$ pentru ca relația să fie corectă.

173 102

Nu se completează de către elev

Punctaj	
Cod	

2. David a calculat suma dintre numărul desenelor alese pentru **Deșert** și cele alese pentru **Delta Dunării**. Calculează și tu! (20p.)

Scrive, pe spațiul dat, rezolvarea problemei.

[illegible]

Nu se completează de către elev

Punctaj	
Cod	

3. Tudor a observat că pe una dintre planșele alese pentru **Deșert** erau desenați mai mulți palmieri, ca în imaginea de mai jos. Câți palmieri erau desenați în total pe planșă?

Calculează prin adunare repetată de termeni egali.

(10p.)

Scrie, pe spațiul dat, rezolvarea problemei.

[illegible]

Nu se completează de către elev

Punctaj	
Cod	

4. Alegând desenele pentru **Polul Sud**, Miruna le-a spus colegilor că un pinguin poate mânca, într-o zi, 3 kg de peste. Câte kg de peste poate mânca un pinguin în 7 zile?

Încercuiește litera corespunzătoare răspunsului corect.

(5p.)

- A.** 3 kg
B. 4 kg
C. 10 kg
D. 21 kg

Nu se completează de către elev

Punctaj	
Cod	

5. Știind că Ana a aranjat, pe panouri, 28 de desene cu animale de la **Polul Sud** și că pe fiecare panou erau câte 7 desene, câte panouri a folosit Ana?

Calculați prin scăderea repetată a aceluiași număr.

(12p.)

Scrie, pe spațiul dat, rezolvarea problemei.

[illegible]

Nu se completează de către elev

Punctaj	
Cod	

6. David a realizat un desen cu animale din *Delta Dunării*.

Cu ce figură geometrică se aseamnă foaia pe care a desenat David?

(5p.)

Încercuiește litera corespunzătoare răspunsului corect.

- A.** cerc
B. dreptunghi
C. pătrat
D. triunghi







Nu se completează de către elev

Punctaj	
Cod	

7. Miruna a așezat imagini cu păsări din **Delta Dunării**, respectând regula din șirul de mai jos. Ce imagini urmează în șir? (5p.)

Încercuiește litera corespunzătoare răspunsului corect.



Nu se completează de către elev

Punctaj	
Cod	

8. Câți pereți vor fi acoperiți cu 24 de desene din **Deșert**, știind că pe fiecare perete încap câte 6 desene? (5p.)

Încercuiește litera corespunzătoare răspunsului corect.

- A. 4
- B. 10
- C. 18
- D. 30

Nu se completează de către elev

Punctaj	
Cod	

9. Tudor a realizat afișul pentru **Pădure**. În ce parte a afișului se află iepurașii?
Încercuiește litera corespunzătoare răspunsului corect.

(5p.)




- A. în dreapta sus
- B. în dreapta jos
- C. în stânga sus
- D. în stânga jos

Nu se completează de către elev

Punctaj	
Cod	

10. Copiii au realizat câte un ecuson pentru fiecare mediu de viață și au lipit, pe cartonașe de forme geometrice diferite, câte o imagine cu un animal potrivit.

Scrive, pe spațiul dat, numele formei geometrice a cartonașului pe care este lipită imaginea unei cămile, animalul care trăiește în Deșert. (3p.)



Cartonașul pe care este lipită imaginea unei cămile are formă de

Nu se completează de către elev

Punctaj	
Cod	

Încercuiește litera corespunzătoare răspunsului corect.

- | | |
|---------|--|
| Punctaj | |
| Cod | |

Explică, în spațiul dat, răspunsul tău.

Pădurea	Deșertul	Delta Dunării	Polul Sud
173	87	95	102

Da, pentru că _____

Nu, pentru că _____

[illegible]

